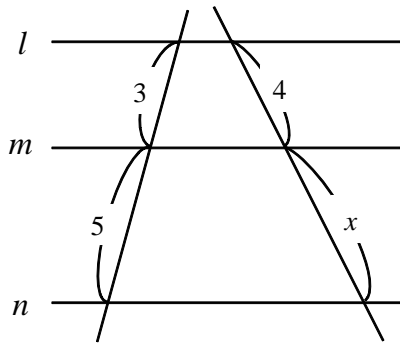


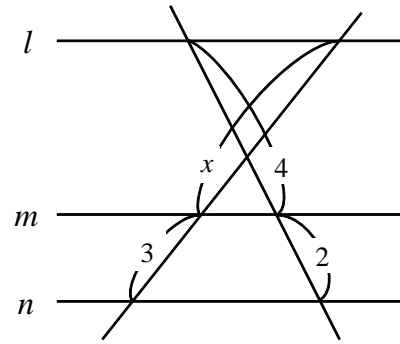
【演習】⑤平行線と比の移動

1 下の図において、 $l \parallel m \parallel n$  のとき、それぞれ  $x$  の長さを求めよ。

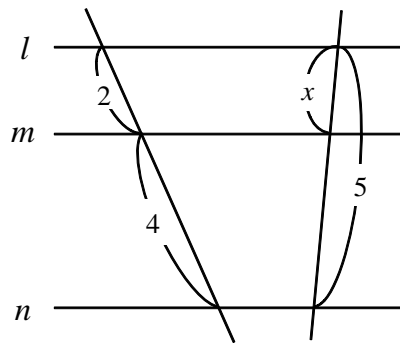
(1)



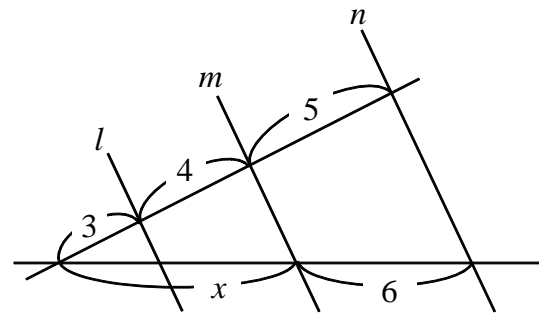
(2)



(3)

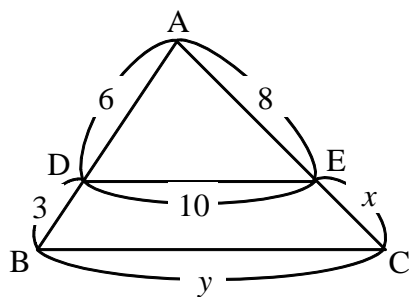


(4)



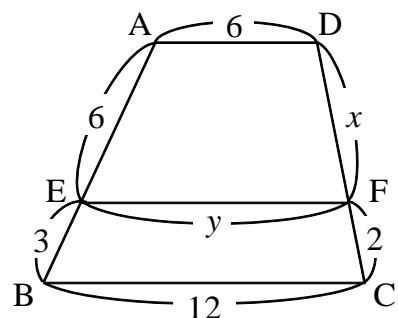
2 下の図において、それぞれ  $x$  および  $y$  の長さを求めよ。

(1)



(DE // BC)

(2)



(AD // EF // BC)