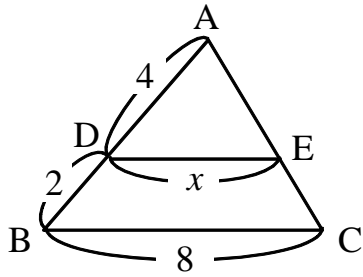


【演習】④平行線と三角形

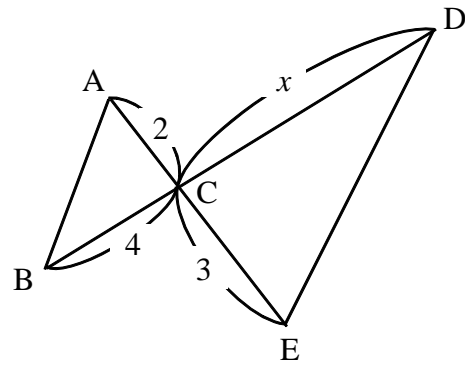
1 下の図において、それぞれ x の長さを求めよ。

(1)



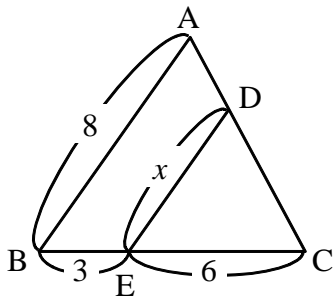
(DE // BC)

(2)



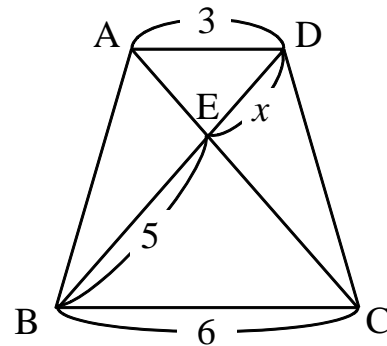
(AB // DE)

(3)



(AB // DE)

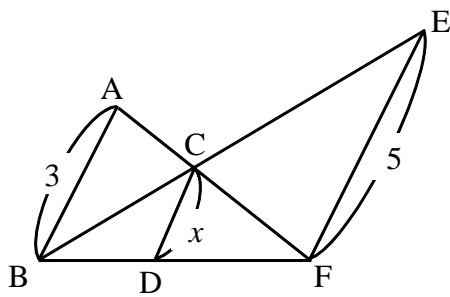
(4)



(AD // BC)

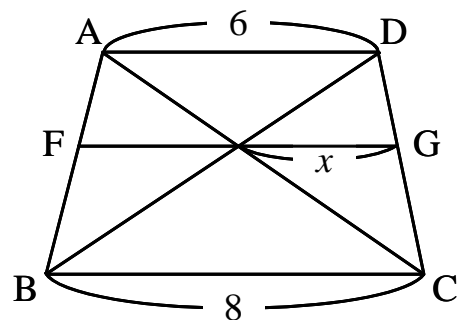
2 下の図において、それぞれ x の長さを求めよ。

(1)



(AB // CD // EF)

(2)



(AD // FG // BC)