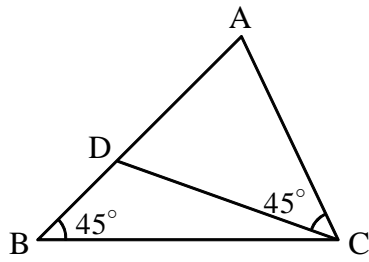


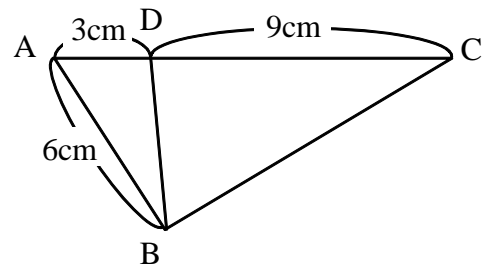
【演習】②三角形の相似条件

1 下の図で、 $\triangle ABC$ と相似な三角形を探し、記号「 \sim 」を用いて表せ。また、そのとき用いた相似条件をいえ。

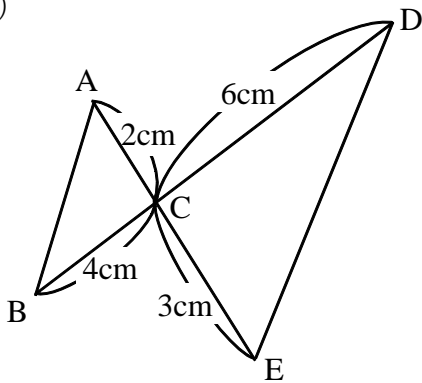
(1)



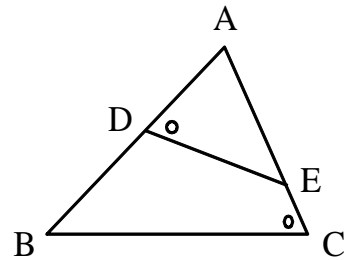
(2)



(3)

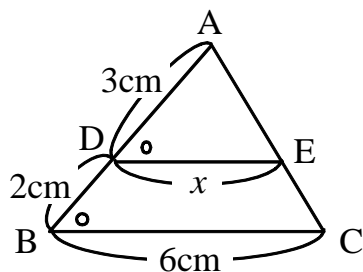


(4)



2 下の図において、それぞれ x の長さを求めよ。

(1)



(2)

